

Задания по математике:

1. Реши примеры по порядку так, чтобы ответ одного примера, был первой цифрой в следующем примере. Расставив прямоугольники правильно и, записав слоги по порядку в тетрадь, ты узнаешь:

- Необычное существо, словно пришедшее из древних глубин веков, поражает таинственным обликом. Напоминает потомка динозавра или инопланетного обитателя. Массивный клюв придает птице загадочность и выглядит устрашающим. Встреча с ней в природе уже большая редкость, не всякий зоопарк может гордиться фантастическим постояльцем.

Начало 2+4

Г	В	КИ	ЛА	ТО
2+5	9-1	6-5	7+2	1+1

Ответ:

<https://yandex.ru/video/preview?filmId=14232391336682480896&from=tabbar&parent-reqid=1586238233393778-1476489154837422536900284-prestable-app-host-sas-web-yp-94&text=%D0%BA%D0%B8%D1%82%D0%BE%D0%B3%D0%BB%D0%B0%D0%B2>

- Это длинноногая, длинношеяя птица, серой окраски сверху и белой снизу, с включениями чёрного цвета, с довольно длинным острым клювом. Размеры достаточно большие, вес взрослого самца может достигать 2 кг. Самки несколько меньше самцов, однако в остальном от них почти не отличаются. Эта птица питается исключительно животной пищей. Основу её рациона составляет рыба, но она поедает также лягушек, разнообразных мелких млекопитающих (например, грызунов размером до суслика включительно), пресмыкающихся, головастиков, насекомых.

Начало 1+2

П	ЦА	ЛЯ
5-1	3+2	4+2

Ответ:

<https://yandex.ru/video/preview?filmId=3502333136255801034&text=%D1%86%D0%B0%D0%BF%D0%BB%D1%8F>

- Травоядные животные, несколько напоминающие по облику свинью, но в отличие от неё обладающие коротким, приспособленным для хватания хоботом.

Начало 10-1

ПИ	ТА	Р
7-3	9-2	4+4

Ответ:

<https://yandex.ru/video/preview?filmId=3555856073378095441&from=tabbar&text=%D1%82%D0%B0%D0%BF%D0%B8%D1%80>

- Полуводное травоядное млекопитающее. Самый крупный среди современных грызунов.

Начало 2+3

РА	КА	БА	ПИ
6+3	5-5	1+5	0+1


Ответ:

<https://yandex.ru/video/preview?filmId=15271704438634557429&from=tabbar&parent-reqid=1586239821778947-1513538874527827931600158-production-app-host-vla-web-yp-33&text=%D0%BA%D0%B0%D0%BF%D0%B8%D0%B1%D0%B0%D1%80%D0%B0>

2. Реши задачу, запиши решение в тетрадь:



Составь задачу по картинке





Таня нашла в парке 8 шишек, а Света нашла на 4 шишки меньше. Сколько шишек нашла Света? Дорисуй.





Рассмотри картинки. Впиши числа и реши задачи.

Миша поймал шесть рыбок, а Дима на три больше. Сколько рыбок поймал Дима?



Катя прочитала пять сказок, а Марина на одну больше. Сколько сказок прочитала Марина?



Ваня нашёл четыре гриба, а Саша на два гриба больше. Сколько грибов нашёл Саша?

